


kastelen en ridders

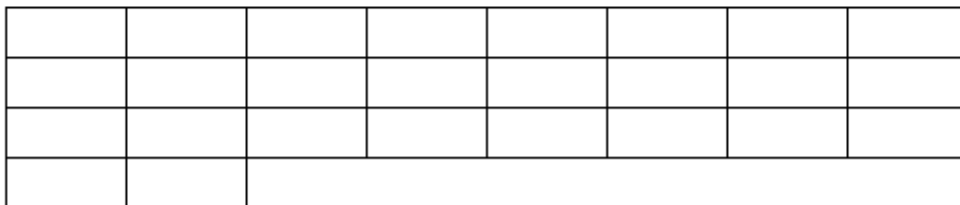
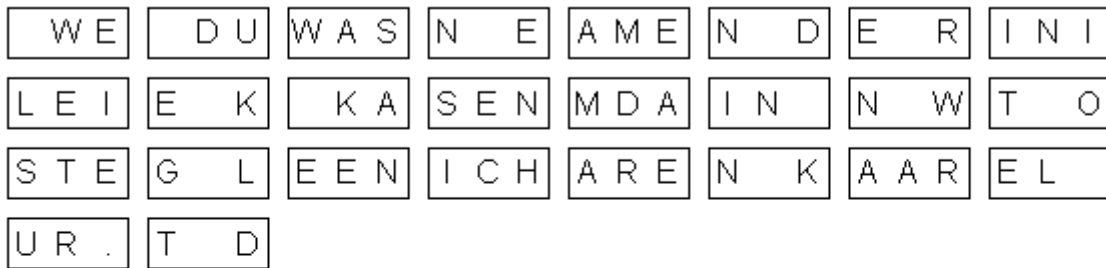
Zet de letters in de goede volgorde, zodat er een zin ontstaat.



T E

V N E L S E N E I C
I D D V O E R N Z O
E E I R L D S D Z O N I
R H E A E R E L D E E H

Zet de blokken in de goede volgorde, zodat er een goede zin ontstaat.



Elk cijfer staat voor een letter. Twee letters zijn al voorgedaan. Welke zin staat hier?

A	B	C	D	E	F	G	H	I	J	K	L	M	N	O	P	Q	R	S	T	U	V	W	X	Y	Z
			15										17												

$\frac{D}{15 \ 22}$ $\frac{\quad}{22 \ 22 \ 7 \ 18}$ $\frac{\quad}{6 \ 22}$ $\frac{\quad}{26 \ 2 \ 18}$ $\frac{\quad}{6 \ 22 \ 14}$ $\frac{N}{22 \ 17}$ $\frac{\quad}{21 \ 2 \ 7 \ 22 \ 17}$ $\frac{N}{25 \ 2 \ 17}$

$\frac{\quad}{3 \ 19 \ 8 \ 6}$ $\frac{\quad}{14 \ 2 \ 6 \ 22 \ 7}$ $\frac{\quad}{21 \ 22 \ 7 \ 15 \ 22 \ 17}$ $\frac{D \ N}{1 \ 22}$ $\frac{N}{25 \ 2 \ 17}$

$\frac{\quad}{18 \ 6 \ 22 \ 22 \ 17}$ $\frac{N}{23 \ 22 \ 13 \ 19 \ 8 \ 21 \ 15}$ $\frac{D}{\quad}$